

全国计算机技术与软件专业技术资格（水平）考试

2007 年上半年 信息处理技术员 上午试卷

（考试时间 9 : 00~11 : 30 共 150 分钟）

请按下述要求正确填写答题卡

1. 在答题卡的指定位置上正确写入你的姓名和准考证号，并用正规 2B 铅笔在你写入的准考证号下填涂准考证号。
2. 本试卷的试题中共有 75 个空格，需要全部解答，每个空格 1 分，满分 75 分。
3. 每个空格对应一个序号，有 A、B、C、D 四个选项，请选择一个最恰当的选项作为解答，在答题卡相应序号下填涂该选项。
4. 解答前务必阅读例题和答题卡上的例题填涂样式及填涂注意事项。解答时用正规 2B 铅笔正确填涂选项，如需修改，请用橡皮擦干净，否则会导致不能正确评分。

例题

● 2007 年上半年全国计算机技术与软件专业技术资格（水平）考试日期是 （88） 月 （89） 日。

（88） A. 4 B. 5 C. 6 D. 7

（89） A. 23 B. 24 C. 25 D. 26

因为考试日期是“5 月 26 日”，故（88）选 B，（89）选 D，应在答题卡序号 88 下对 B 填涂，在序号 89 下对 D 填涂（参看答题卡）。

● 下列叙述错误的是(1)。

- (1) A. 计算机要经常使用，不要长期闲置不用
- B. 为了延长计算机的寿命，应避免频繁开关计算机
- C. 在计算机附近应避免磁场干扰
- D. 计算机使用几小时后，应关机休息一会儿再用

● 内存用于存放计算机运行时的指令、程序、需处理的数据和运行结果。但是，存储在(2)中的内容是不能用指令修改的。

- (2) A. DRAM B. SRAM C. RAM D. ROM

● 具有(3) mm 规格像素点距的显示器是较好的。

- (3) A. 0.39 B. 0.33 C. 0.31 D. 0.28

● 某单位自行开发的工资管理系统，按计算机应用的类型划分，属于(4)。

- (4) A. 科学计算 B. 辅助设计 C. 数据处理 D. 实时控制

● 总线的(5)包括总线的功能层次、资源类型、信息传递类型、信息传递方式和控制方式。

- (5) A. 物理特性 B. 功能特性 C. 电气特性 D. 时间特性

● 高效缓冲存储器，简称 Cache。与内存相比，它的特点是(6)。在 CPU 与主存之间设置 Cache 的目的是为了(7)。

- (6) A. 容量小、速度快、单位成本低 B. 容量大、速度慢、单位成本低
- C. 容量小、速度快、单位成本高 D. 容量大、速度快、单位成本高
- (7) A. 扩大主存的存储容量 B. 提高 CPU 对主存的访问效率
- C. 既扩大主存容量又提高存取速度 D. 提高外存储器的速度

● 下面的说法中，正确的是(8)。

- (8) A. 一个完整的计算机系统由硬件系统和输入、输出系统组成
- B. 计算机区别于其他计算工具最主要的特点是能存储和运行程序
- C. 计算机可以直接对磁盘中的数据进行加工处理
- D. 16 位字长的计算机能处理的最大数是 16 位十进制数

● 下列关于随机读/写存储器 (RAM) 特点的描述，正确的是(9)。

- (9) A. 从存储器读取数据后，原有的数据就清零了
- B. RAM 可以作为计算机数据处理的长期储存区
- C. RAM 中的信息不会随计算机的断电而消失
- D. 只有向存储器写入新数据时，存储器中的内容才会被更新

- 下列软件中，属于应用软件的是(10)。
- (10) A. DOS B. LINUX C. Windows NT D. Internet Explorer
- (11) 服务器一般都支持 SMTP 和 POP3 协议，分别用来进行电子邮件的发送和接受。
- (11) A. Gopher B. Telnet C. FTP D. E-mail
- (12) 位于 Windows 窗口的最上部，用鼠标拖动它，可以移动该窗口。
- (12) A. 菜单栏 B. 工具栏 C. 标题栏 D. 状态栏
- Windows 的资源管理器中，用键盘来选择所有文件或文件夹时，按(13) 组合键即可。
- (13) A. CTRL+A B. CTRL+C C. CTRL+V D. CTRL+F
- 国内一家高校要建立 WWW 网站，其恰当的域名后缀是(14)。
- (14) A. com B. edu.cn C. com.cn D. edu
- 某 Internet 主页的 URL 地址为 <http://www.test.com.cn/product/index.html>，该地址的域名是(15)。
- (15) A. index.html B. com.cn
C. www.test.com.cn D. http://www.test.com.cn
- 下面的各种设备中，(16) 既是输入设备，又是输出设备。(17) 组设备依次为输出设备、存储设备、输入设备。(18) 用于把摄影作品、绘画作品输入到计算机中，进而对这些图像信息进行加工处理、管理、使用、存储和输出。不属于输入设备的是(19)。
- (16) A. 扫描仪 B. 打印机 C. 键盘 D. U 盘
- (17) A. CRT、CPU、ROM B. 绘图仪、键盘、光盘
C. 绘图仪、光盘、鼠标 D. 磁带、打印机、激光打印机
- (18) A. 扫描仪 B. 投影仪 C. 彩色喷墨打印机 D. 绘图仪
- (19) A. 显示器 B. 扫描仪 C. 键盘 D. 话筒
- 为了提高磁盘存取效率，人们常每隔一段时间进行磁盘碎片整理。所谓磁盘碎片是指磁盘使用一段时间后，(20)。
- (20) A. 损坏的部分（碎片）越来越多
B. 因多次建立、删除文件，磁盘上留下的很多可用的小空间
C. 多次下载保留的信息块越来越多
D. 磁盘的目录层次越来越多，越来越细

● 在 Windows 系统中，通过设置文件的(21)，可以使其成为“隐藏”文件。

- (21) A. 类型 B. 格式 C. 属性 D. 状态

● 下图所示的插头可以连接到计算机上的(22)接口。



- (22) A. COM B. RJ-45 C. USB D. PS/2

● (23)具有法律属性，不需经各方接受或各方商定同意纳入经济合同中，各方必须执行。

- (23) A. 推荐性标准 B. 非强制性标准 C. 自愿性标准 D. 强制性标准

● 下列选项中不属于我国著作权法所保护的作品是(24)。

- (24) A. 计算机程序 B. 计算机保护条例
C. 软件开发文档 D. Flash 软件制作的动画

● 某学生的积蓄 2 月底比 1 月底增加了 50%，而 3 月底比 2 月底减少了 50%。那么，与 1 月底相比，该学生 3 月底的积蓄(25)。

- (25) A. 减少了 75% B. 减少了 25%
C. 没有变化 D. 增加了 25%

● 国际标准书号由“ISBN”和 10 个数字组成，其格式为：ISBN 组号-出版者号-书名号-校验码（如校验码为“10”则用符号“X”代表）。如果这 10 个数字自左至右依次乘以 10, 9, 8, ..., 2, 1，再求和后所得的结果能被 11 整除，则说明该书号校验正确。《信息处理技术员教程》的书号为：ISBN 7-302-11601-校验码，则校验码应是(26)。

- (26) A. 4 B. 5 C. 6 D. 7

● 某地区考试机构准备对信息处理技术员考试笔试成绩（BS）不低于 45 分，并且机考成绩（JK）为 43~44 分者进行重点复查。对考生成绩表进行筛选操作时，正确描述上述条件的表达式是(27)。

- (27) A. $BS \geq 45$ and (JK=43 or JK=44) B. $BS > 45$ and (JK=43 and JK=44)
C. $BS \geq 45$ or (JK=43 or JK=44) D. $BS > 45$ or (JK=43 and JK=44)

● 对某地区家庭人数的抽样调查统计结果如下表：

家庭人数	1	2	3	4	5	6	7
概 率	0.181	0.236	0.320	0.156	0.069	0.024	0.014

根据此表，该地区每个家庭的平均人数大致为(28)。

- (28) A. 2.6 B. 2.8 C. 3.0 D. 3.2

- 调制解调器 (Modem) 的功能是实现 (29)。
(29) A. 模拟信号与数字信号间的转换 B. 数字信号的编码
C. 模拟信号的放大 D. 数字信号的整形

- “位”(bit)是计算机的最小信息单位,一般把连续的(30) 称为一个字节(Byte)。
(30) A. 4 位 B. 8 位 C. 10 位 D. 16 位

- Windows 系统的文件夹组织结构是一种 (31)。
(31) A. 树型结构 B. 网状结构 C. 表格结构 D. 星形结构

- 在 Windows XP 中,文件名中不允许出现的字符是 (32)。
(32) A. 数字字符 0~9 B. 英文字符 A~Z C. 空格 D. 星号*

- 发送电子邮件属于信息处理的 (33) 过程。
(33) A. 信息传输 B. 信息加工 C. 信息获取 D. 信息存储

- Windows 系统中,用“记事本”程序编辑文字内容时,另存某文件后自动形成的文件扩展名是 (34)。
(34) A. doc B. htm C. xls D. txt

- 下列软件中, (35) 可以完成文件压缩和还原。
(35) A. Winamp B. WinRAR C. ACDSee D. Outlook Express

- 在 Windows 系统中,窗口标题栏最左边的小图标表示 (36)。用鼠标左键双击该图标,可以 (37)。
(36) A. 应用程序控制菜单图标 B. 开关按钮
C. 开始按钮 D. 工具按钮
(37) A. 缩小该窗口 B. 放大该窗口 C. 关闭该窗口 D. 还原该窗口

- 在 Windows 2000 的菜单中,前面有“√”标记的项目表示 (38)。
(38) A. 复选选中 B. 单选选中 C. 有子菜单 D. 会弹出对话框

- 在 Windows “资源管理器”中,单击需要选定的第一个文件, (39), 能够一次选定连续的文件。
(39) A. 按住 Ctrl 键,用鼠标左键单击需要选定的最后一个文件
B. 按住 Shift 键,用鼠标左键单击需要选定的最后一个文件
C. 按住 Shift 键,用鼠标右键逐个选取文件
D. 按住 Alt 键,用鼠标左键逐个选取文件

● 在 Windows2000 中，下列关于文件删除和恢复的叙述，错误的是 (40)。

- (40) A. 选择指定的文件，按 Delete 键，可以删除文件
B. 将选定的文件拖拽到“回收站”中，可以删除文件
C. 使用“还原”命令，可以把“回收站”中的文件恢复到原来文件夹中
D. 被删除的文件都在“回收站”中

● 在 Windows 资源管理器中，如果要剪切一个选中的文件，默认的快捷键是 (41)。

- (41) A. Ctrl+C B. Ctrl+X C. Ctrl+V D. Ctrl+D



● 剪贴板是 (42)。

- (42) A. 磁盘上的一个文件 B. 一个文件夹
C. 内存中的一块区域 D. 磁盘上的一个特殊区域

● 以下功能中，(43) 是 Microsoft Word 无法完成的。

- (43) A. 将一个已存在于某 Word 文档中的彩色图片改变为黑白图片
B. 打开一个 html 文件进行编辑
C. 在 Word 文档中使用某图片作为水印
D. 将某个 MP3 文件中的某一段音乐提取出来

● 在 Word 中对文字进行排版时，有多种排版方式可供选择，如两端对齐、右对齐等，操作者可以通过点击快捷工具栏上的相应图标来选择合适的对齐方式。下列关于快捷按钮与相应对齐方式的叙述中，(44) 是正确的。

- (44) A.  左对齐 B.  分散对齐 C.  行对齐 D.  列对齐

● 在 Word 编辑状态下，将正文中所有“internet explorer”改写为“Internet Explorer”，常选用编辑子菜单上的 (45) 命令；单击“工具”栏中的“(46)”按钮可以在光标所在处插入超链接。

- (45) A. “修订” B. “替换” C. “定位” D. “粘贴”

- (46) A.  B.  C.  D. 

● Word 可以打开很多类型的文件，在 Word 的“打开”对话框中对这些类型都以列表的形式列了出来，但是扩展名是 (47) 的文件不能够被 Word 正常打开。

- (47) A. DOC B. DOT C. TXT D. PDF

● 在 Word 中可以用“编辑”→“定位”命令对需要寻找的位置进行快速定位，(48) 不属于定位目标。

(48) A. 页 B. 节 C. 行 D. 宏

● 在 Word 中，(49) 视图最能够体现“所见即所得”的特性。

(49) A. Web 版式 B. 大纲 C. 普通 D. 页面

● 在 Word 中打开英文文档或者在文档中输入英文信息时，系统会自动对拼写和语法进行检查，如果出现红色波形下划线则表示存在(50)。

(50) A. 可能的语法问题 B. 可能的拼写问题
C. 可能的页面错误 D. 可能的版式错误

● 在 Excel 中，编辑栏中的名称框显示的 B10 表示当前工作表的活动单元格是(51)。

(51) A. 第 2 列第 10 行 B. 第 2 列第 2 行
C. 第 10 列第 2 行 D. 第 10 列第 10 行

● 以下关于 Excel 单元格操作的叙述，(52) 是错误的。

(52) A. 拖曳单元格，可以选定若干个不连续的单元格
B. 单击某单元格可选定该单元格
C. 单击某单元格，再按住 Shift 不放，单击另一单元格，可选定一个区域
D. 按住 Ctrl 不放，再单击某些单元格，可选定不连续的某些单元格

● 在 Excel 工作簿中，工作表(53)。

(53) A. 只能在所在工作簿内移动且不能复制
B. 只能在所在工作簿内复制且不能移动
C. 可以移动到其它工作簿内，不能复制到其他工作簿内
D. 可以移动到其它工作簿内，也可以复制到其他工作簿内

● 设在 Excel 工作表的单元格 C2 中有公式“=A2+B2”，将 C2 单元格的公式复制到 C3，那么单元格 C3 内的公式是(54)。

(54) A. =A2+B2 B. =A3+B3 C. =B2+C2 D. =B3+C3

● 在 Excel 中，如果要输入的文本全部为数字，比如电话号码、邮政编码、学号等，为了避免让 Excel 误认为输入的是数值型数据，可以先输入(55)，再输入这些数字。

(55) A. ' B. " C. , D. ;

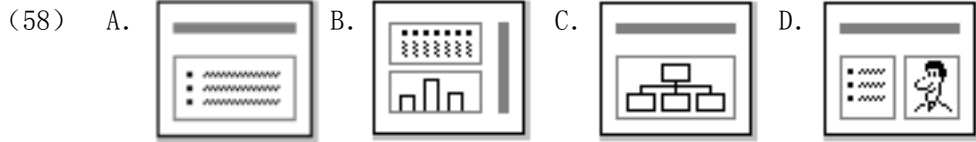
● Excel 中，(56) 函数不能用于取出字符串中的部分字符。

(56) A. LEFT B. RIGHT C. MID D. LOWER

● 假设有一 Excel 工作表, 在 A1 单元格输入 “1 1/2” (只输入双引号之内的内容, 注意有空格), 在 A2 单元格输入 “2 1/2”, 则 MAX (A1, A2) 的结果是 (57)。

- (57) A. 1 1/2 B. 2 C. 2 1/2 D. 2.5

● 在 PowerPoint 中用自动版式创建新幻灯片时, (58) 表示图表版式。



● 在 PowerPoint 中, 用插入 “文本框” 工具在幻灯片中添加文本时, (59) 能使插入的文本内容竖排。

- (59) A. 选择默认格式
B. 旋转文本框
C. 选择 “文本框” 菜单下的 “水平” 项
D. 选择 “文本框” 菜单下的 “垂直” 项

● 在 PowerPoint 中, 放映幻灯片时, 按 (60) 方法无法使幻灯片跳至下一页。

- (60) A. 鼠标左键 B. Enter 键 C. ↑ 键 D. N 键

● 下列关于 PowerPoint 中自定义动画的说法中, (61) 是正确的。

- (61) A. 幻灯片中的每一个对象都只能使用相同的动画效果
B. 各个对象的动画的出现顺序是固定的, 不能随便调整
C. 各个对象都可以以任意顺序出现
D. 每张幻灯片只能使用相同的动画效果

● 在 PowerPoint 中, “动作按钮” 功能不能实现 (62) 动作。

- (62) A. 执行指定应用程序 B. 跳转到某张幻灯片
C. 跳转到其他 PowerPoint 文件的某张幻灯片 D. 删除指定文件

● Access 的数据库文件默认的扩展名是 (63)。

- (63) A. mdb B. adb C. db D. dot

● 某关系数据库系统中, 设有 “选修操作系统” 的学生关系 A, “选修电子商务” 的学生关系 B, 那么, 求 “选修操作系统” 而没有 “选修电子商务” 的学生, 则需要对这两个关系进行 (64) 运算。

- (64) A. 并 B. 交 C. 差 D. 补

● 在 Access 中, (65) 不属于数据表的复制方式。

- (65) A. 表结构的复制 B. 记录的复制

C. 结构与记录同时复制

D. 选中字段的复制

● 信息系统设计方案中的操作界面部分，特别是输入界面设计方案需要征求信息处理技术员的意见。在如下设计理念中，(66)是不正确的。

- (66) A. 用户在输入框中输入信息并按回车键后，光标应自动移到下一输入框
B. 性别、学历等信息的输入可采用单选按钮或下拉列表框形式
C. 为了美观起见，输入框中的信息应要求用户用宋体居中输入
D. 对用户输入的信息应尽量立即自动进行有效性校验，并提示错误

● 某市晚报为了评估市民对该报的欢迎程度，抽样调查了 210 人对阅读该报后自己的评论意见，各类人员、各种评价意见的统计结果列表如下：

	经常阅读	偶尔阅读	不了解	合计
很好	56	4	0	60
好	86	23	1	110
一般	8	11	0	19
差	5	16	0	21
合计	155	54	1	210

该统计表中 (67)。

- (67) A. 各项数据是正常的
B. 含有计算错误
C. 数据没有参考价值
D. 含有违反常理的数据

● 某通信公司公布了 512K 速率的二种 ADSL 使用类型的资费标准如下：

使用类型	月使用费	限时	超時計费标准
A	24.5 元	20 小时	0.05 元/分钟
B	49.5 元	40 小时	0.05 元/分钟

根据该资费标准，月上网时间在 (68) 以下者，选择类型 A 比较合适；否则应选择类型 B。

- (68) A. 28 小时 20 分 B. 30 小时 C. 40 小时 D. 48 小时 20 分

● 某企业准备将 3 项工作 A、B、C 分配给甲、乙、丙三人，每人分别做一项。估计各人完成各项工作所需的天数如下表所示：

所需天数	A	B	C
甲	9	7	10
乙	12	14	15
丙	16	11	16

